

Egzamin podstawowy w zakresie przewozu drogowego wszystkich klas
Test nr 002 ROK 2017

1. Dokument przewozowy powinien zawierać:

- A. liczbę i określenie sztuk przesyłki
- B. opis trasy przewozu
- C. wykaz osób uprawnionych do zmiany klasyfikacji materiałów niebezpiecznych w przypadku awarii

2. Które z wymienionych dokumentów wymagane są podczas przewozu 5 bębnow stalowych o pojemności 200 litrów każdy, zawierających olej napędowy UN 1202, III grupy pakowania?

- A. dokument przewozowy zawierający zapis: wartość obliczona zgodnie z przepisami 1.1.3.6; nie przekracza ilości ograniczonych
- B. dokument przewozowy zawierający zapis np.: UN 1202 paliwo do silników Diesla, 3, GP III (D/E); 5 bębnow; całkowita ilość 1000 litrów;
- C. dokument przewozowy zawierający zapis: wartość obliczona zgodnie z przepisami 1.1.4.2

3. W jakim kierunku przemieszcza się materiał ciekły w opakowaniach w czasie przewozu?

- A. zawsze w kierunku zgodnym z kierunkiem jazdy
- B. w prawo podczas skrętu w lewo
- C. w kierunku przeciwnym do kierunku jazdy podczas hamowania w linii prostej

4. Poniżej przedstawione nalepki informują o tym, że materiał:



- A. stwarza zagrożenie wybuchem w przypadku ogrzewania
- B. stwarza zagrożenie pożarem i wybuchem w przypadku kontaktu z wodą
- C. jest gazem trującym

5. Poniżej przedstawiona nalepka informuje o tym, że materiał:



- A. w kontakcie ze skórą grozi poparzeniami drugiego stopnia
- B. stwarza zagrożenie wybuchem
- C. stwarza zagrożenie zatruciem

6. Co powinieneś zrobić, gdy przewożysz przesyłki oznakowane nalepką?



- A. przesyłki należy ustawić tak aby strzałki na nalepkach były skierowane do góry
- B. jeśli istnieją wątpliwości, połóż je na boku, tzn. ze strzałkami skierowanymi w stronę boku pojazdu
- C. nie ładuj ich, jeżeli twój pojazd jest kryty oponczą

7. Przewóz luzem:

- A. jest dopuszczony dla niektórych materiałów stałych
- B. jest zalecany w przypadku klasy I
- C. jest dopuszczalny dla materiałów klasy 2 i 3


8. Jeśli pożar obejmie silnik napędzany olejem napędowym, to może on być gaszony:

- A. dowolną metodą
- B. gaśnicą śniegową (zestalonym dwutlenkiem węgla).
- C. gaśnicą proszkową ABC

9. Przy przewozie towarów niebezpiecznych niektórych klas, zapakowanych w ilościach ograniczonych:

- A. jednostka transportowa powinna być zawsze oznakowana tablicami pomarańczowymi

- B. jednostka transportowa o masie maksymalnej powyżej 12 ton gdy przewozi powyżej 8 ton masy brutto sztuk przesyłki powinna być oznakowana znakiem:



- C. kierowca jednostki transportowej powinien posiadać zaświadczenie ukończenia kursu podstawowego ADR

10. Przewóz towarów niebezpiecznych w sztukach przesyłki oznacza:

- A. przewóz w kontenerach, cysternach
- B. przewóz towarów niebezpiecznych w dużych opakowaniach
- C. przewóz towarów niebezpiecznych w kontenerach typu BK1 lub BK2

11. Pojazd przeznaczony do przewozu towarów niebezpiecznych w certyfikowanych opakowaniach podlega:

- A. okresowym badaniom technicznym przeprowadzanym w warsztatach samochodowych
- B. specjalnym badaniom w wyznaczonych stacjach diagnostycznych
- C. typowym badaniom technicznym przeprowadzanym w stacjach kontroli pojazdów

12. Płyn do płukania oczu wchodzący w skład wyposażenia dla ochrony indywidualnej:

- A. powinien znajdować się w jednostce transportowej przewożącej towary oznakowane nalepką ostrzegawczą nr 2.2
- B. powinien znajdować się w jednostce transportowej przewożącej towary oznakowane nalepką ostrzegawczą nr 6.1
- C. powinien znajdować się w jednostce transportowej przewożącej towary oznakowane nalepkami ostrzegawczymi nr 2.1 i 2.2

13. Poniżej przedstawiona nalepka informuje o tym, że materiał:



- A. stwarza zagrożenie pożarem w kontakcie z materiałami palnymi
- B. jest stały, samozapalny
- C. jest ciekły palny

14. Rozładowca towaru niebezpiecznego powinien:

- A. bezpieczeństwo związane z rozładunkiem pojazdu
- B. dokonać ostatecznych zapisów w dokumencie przewozowym
- C. odesłać do nadawcy towar w uszkodzonych i ciekących opakowaniach

15. Oznaczenie sztuki przesyłki, poniższym znakiem dla materiału zagrażającego środowisku jest:



- A. niewymagane dla opakowań (pojedynczych lub opakowań wewnętrznych) zawierających mniej niż 5 kg netto materiałów stałych zagrażających środowisku
- B. wymagane przy przewozie każdego towaru niebezpiecznego
- C. wymagane tylko dla towarów klasy 6.1

16. Które z poniższych zagrożeń stwarzanych przez towary klasy 3 uznaje się za dominujące?

- A. promieniotwórczość
- B. palność materiałów ciekłych
- C. palność gazów skroplonych

17. Do klasy 6.2 według ADR zalicza się:

- A. materiały biologiczne
- B. materiały stałe zapalne
- C. materiały trujące

18. Jeśli ma miejsce wypadek, to które z następujących dokumentów są ważne dla prowadzenia akcji ratowniczej?

- A. zaświadczenie ADR
- B. zielona karta pojazdu
- C. dokument przewozowy

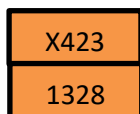
19. Doradca do spraw bezpieczeństwa przewozu towarów niebezpiecznych - w firmie:

- A. nie jest potrzebny w firmie, której pracownicy rozładują towary niebezpieczne transportowane w cysternach
- B. może wspomagać kierowcę w rozwiązywaniu bieżących problemów związanych z przewozem, załadunkiem i rozładunkiem towarów niebezpiecznych
- C. jest odpowiedzialny za czas pracy kierowcy

20. Za oznakowanie sztuk przesyłki z materiałami niebezpiecznymi odpowiada:

- A. odbiorca
- B. konwojent
- C. producent, jeżeli jest nadawcą sztuki przesyłki

21. Numery znajdujące się w górnej części tablicy barwy pomarańczowej wskazują zagrożenia:



- A. materiałem stałym samonagrzewającym się, reagującym niebezpiecznie z wodą wydzielającym gazy
- B. palne materiałem wybuchowym, reagującym niebezpiecznie z wodą wydzielającym gazy trujące
- C. materiałem stałym zapalnym, reagującym niebezpiecznie z wodą wydzielającym gazy żrące

22. Poniżej przedstawiony znak oznacza:



- A. zagrożenie w pojazdach lub kontenerach stwarzane gazami żrącymi
- B. zagrożenie w pojazdach lub kontenerach stwarzane gazami duszącymi służącymi do chłodzenia
- C. zagrożenie w pojazdach lub kontenerach wywołane gazami groźącymi zatruciem

23. Kto powinien upewnić się że towar niebezpieczny jest sklasyfikowany i dopuszczony do przewozu zgodnie z Umową ADR?

- A. nadawca
- B. załadowca
- C. kierowca

24. Przez które z przedstawionych poniżej tuneli dozwolony jest przewóz towaru niebezpiecznego w sztukach przesyłki UN1203 i kodzie ograniczeń przewozu przez tunele „D/E”?

- A. tunel oznakowany znakiem

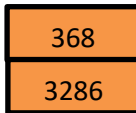


- B. każdy tunel, niezależnie od jego oznakowania

- C. tunel oznakowany znakiem



25. Numery znajdujące się w górnej części tablicy barwy pomarańczowej wskazują:



- A. zagrożenie wyciekami cieczy samozapalnej
- B. zagrożenie materiału trującego, żrącego i silnie utleniającego
- C. zagrożenie wywołane materiałem ciekłym palnym, trującym, żrącym

26. Instrukcje pisemne powinny:

- A. wskazywać sprzęt ochrony indywidualnej, który powinien znajdować się w pojeździe
- B. być czytane przez kierowcę tylko wówczas, gdy zdarzy się wypadek, tzn. w ostatniej chwili
- C. powinny być potwierdzane przez doradcę do spraw transportu towarów niebezpiecznych

27. Przez które z przedstawionych poniżej tuneli może przejechać pojazd oznakowany z przodu i z tyłu znakiem:



- A. tunel oznakowany znakiem
- B. każdy tunel niezależnie od jego oznakowania
- C. tunel nieoznakowany

28. Poniżej przedstawiona nalepka informuje o tym, że materiał:



- A. jest samoreaktywny, mogący rozkładać się egzotermicznie w wyniku ogrzania
- B. to gaz palny
- C. stwarza zagrożenie pożarem wskutek samozapalenia

29. Dokument przewozowy:

- A. wymagany jest tylko w transporcie kombinowanym towarów niebezpiecznych
- B. musi być wypełniony pismem maszynowym lub na komputerze
- C. wymagany jest przy przewozie towarów niebezpiecznych na podstawie zwolnienia 1.1.3.6

30. Sprzęt ochrony ogólnej i indywidualnej znajdujący się na wyposażeniu pojazdu umożliwia:

- A. bezpieczną naprawę uszkodzonych opakowań
- B. ochronę dróg oddechowych w przypadku towarów niebezpiecznych dla których przypisano nalepki ostrzegawcze nr 2.3 lub 6.1
- C. hamowanie przy użyciu zasadniczego układu hamulcowego

Klucz odpowiedzi Test 2

- 1- A
- 2- B
- 3- B
- 4- A
- 5- C
- 6- A
- 7- A
- 8- C
- 9- B
- 10- B
- 11- C
- 12- B
- 13- A
- 14- A
- 15- A
- 16- B
- 17- A
- 18- C
- 19- B
- 20- C
- 21- A
- 22- B
- 23- A
- 24- A
- 25- C
- 26- A
- 27- C
- 28- C
- 29- C
- 30- B

vivo-szkolenia-adr.wroclaw.pl