

Egzamin podstawowy w zakresie przewozu drogowego wszystkich klas
Test nr 001 2019ROK

1. **Dlaczego materiały klasy 4.3 nie powinny być gaszone wodą.**
- A) ponieważ zagrożenie dominujące klasy 4.3 dotyczy wytwarzania w kontakcie z wodą gazów palnych
 - B) z wodą tworzą materiały promieniotwórcze
 - C) z wodą tworzą kwasy

2. **Poniżej przedstawiona nalepka informuje o tym, że materiał:**



- A) stwarza zagrożenie pożarem i wybuchem w przypadku kontaktu z wodą
 - B) jest ciekły palny
 - C) to gaz palny
3. **Odbiorca towaru niebezpiecznego odpowiada za:**
- A) odbiór dokumentu przewozowego
 - B) poinformowanie służb ratowniczych o ujawnieniu zniszczenia przesyłki w stopniu mającym wpływ na bezpieczeństwo
 - C) zdjęcie pomarańczowych tablic ostrzegawczych z pojazdu

4. **Co oznacza - według ADR - pojęcie "ładunek całkowity"?**

- A) każdy ładunek przewożony bez opakowania
- B) każdy materiał przewożony w cysternie, ponieważ jest całkowicie osłonięty
- C) ładunek pochodzący od jednego nadawcy znajdujący się w dużym kontenerze na prawach wyłączności

5. **Klasa towarów niebezpiecznych dotyczy:**

- A) wyłącznie materiałów czystych chemicznie
- B) materiałów o różnych stopniach zagrożenia przy takim samym zagrożeniu dominującym
- C) wyłącznie materiałów o takim samym stanie skupienia np. gaz, ciecz, ciało stałe

6. **Kto odpowiada za przekazanie kierowcy pisemnej instrukcji przed rozpoczęciem przewozu materiałów niebezpiecznych?**

- A) przełożony kierowcy
- B) nadawca, który przekazuje ją spedytorowi, który następnie przekazuje ją kierowcy wraz z poleceniem wyjazdu
- C) spedytor - przewoźnik

7. **Całkowite wyłączenie przewozu towarów niebezpiecznych spod działania przepisów ADR dotyczy:**

- A) transportu towarów, których przepisy ADR nie dopuszczają do przewozu
- B) przewozu dystrybucyjnego na małe odległości
- C) przewozu towarów niebezpiecznych przez osoby prywatne wykorzystywanych do użytku własnego (np. sportu, rekreacji), w opakowaniach stosowanych w sprzedaży detalicznej

8. **Które z poniższych zagrożeń stwarzanych przez towary klasy 6.2 uznaje się za najważniejsze?**

- A) Utlenianie
- B) działanie zakaźne powodowane drobnoustrojami

C) palność

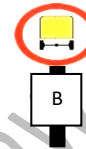
9. **Towary niebezpieczne mogą być przewożone:**

- A) tylko w cysternach
- B) tylko transportem drogowym i kolejowym
- C) luzem w kontenerach spełniających wymagania CSC

10. **Przejeżdżając przez tunel:**

- A) w razie pożaru twojego pojazdu zatrzymaj się włącz światła awaryjne i wezwij pomoc z telefonu komórkowego
- B) nie należy gasić pożaru obejmującego towary niebezpieczne
- C) należy zwiększyć prędkość jazdy, tak aby maksymalnie skrócić czas przejazdu w tunelu

11. **Niżej przedstawiony znak tunelu oznacza:**



- A) zakaz wjazdu pojazdów z towarem zagrażającym emisją gazu niepalnego, żrącego
- B) zakaz wjazdu pojazdu przewożącego jakiegokolwiek towary niebezpieczne
- C) zakaz wjazdu pojazdów z towarem grożącym wybuchem o bardzo dużym zasięgu

12. **Postępowanie przy oparzeniach termicznych:**

- A) zastosować dezynfekcję przy pomocy spirytusu salicylowego
- B) posmarować oparzone miejsca masłem
- C) stosować zimne kompresy bez zrywania naskórka

13. **Maski ucieczkowe wchodzące w skład wyposażenia dla ochrony indywidualnej:**

- A) powinny znajdować się w jednostce transportowej przewożącej towary oznakowane nalepkami ostrzegawczymi nr 2.3
- B) podczas wypadku pojazdu, mają umożliwić czynne uczestnictwo członków załogi w akcji ratunkowej
- C) są wymagane dla tych członków załogi, którzy zajmują się przeładunkiem towaru niebezpiecznego

14. **Przewożąc odpady niebezpieczne spełniające kryteria klasyfikacyjne ADR w transporcie drogowym należy:**

- A) stosować jedynie cysterny asenizacyjne
- B) zaznaczyć w dokumencie przewozowym informację, że przewożony jest odpad np. "UN 1993 ODPAD MATERIAŁ ZAPALNY CIEKŁY, I.N.O., (toluen i alkohol etylowy), 3, II, (D/E)"
- C) stosować jedynie pojemniki dopuszczone przez MPO

15. **Sprzęt ochrony ogólnej i indywidualnej pojazdu umożliwia:**

- A) hamowanie przy użyciu zasadniczego układu hamulcowego
- B) poruszanie się pojazdu z bezpieczną prędkością
- C) podjęcie podstawowych działań ratowniczych

16. **Do klasy 8 według ADR należą:**

- A) materiały pirotechniczne
- B) materiały, które tworzą żrącą ciecz tylko w obecności wody
- C) materiały budzące odrazę

17. **Towar niebezpieczny według ADR to:**

- A) ładunek powodujący przekroczenie dopuszczalnych nacisków osi pojazdu
- B) każdy ładunek przewożony bez opakowania
- C) taki, który posiada nadany numer UN

18. **Poniżej przedstawiona nalepka informuje o tym, że materiał:**




- A) stwarza zagrożenie wybuchem
- B) jest gazem duszącym
- C) jest gazem trującym

19. **Kierowca powinien odmówić przyjęcia przesyłki do przewozu, jeżeli:**

- A) jest to urządzenie zawierające materiał niebezpieczny, a nazwa jego nie figuruje w spisie towarów ADR
- B) brak jest oświadczenia nadawcy o dopuszczeniu do przewozu drogowego danego materiału
- C) opakowania nie są zaopatrzone w wymagane przepisami ADR oznakowania

20. **Oznaczenie jednostki transportowej z przodu i z tyłu tablicami o poniższym wzorze jest:**



- A) obowiązkowe od 01.01.2011 r. przy przewozie towarów niebezpiecznych na warunkach określonych kodami LQ, gdy całkowita masa brutto przewożonych sztuk przesyłki nie przekracza 8 ton
- B) zamiennie z pomarańczowymi tablicami ADR
- C) obowiązkowe przy przewozie towarów niebezpiecznych w ilościach ograniczonych, gdy opakowania zewnętrzne nie są oznakowane

21. **Jakie środki ostrożności powinien zachować kierowca podczas załadunku i przewozu materiałów klasy 4.3?**

- A) nie wolno ładować razem do jednego pojazdu z materiałami klasy 5.1
- B) używać jedynie pojazdu odkrytego (bez oponczy)
- C) umieścić ładunek w taki sposób, aby uniknąć przemieszczania lub wzajemnego ocierania się przesyłek

22. **Przewóz cysterny odejmowalnej o pojemności powyżej 1000 litrów, zawierającej materiał niebezpieczny, umocowanej do skrzyni ładunkowej**

- A) może być dokonany przez kierowcę, który ukończył kurs specjalistyczny w zakresie przewozu w cysternach
- B) nie wymaga oznakowania jednostki transportowej tablicami, ponieważ jest nimi oznakowana cysterna
- C) może być dokonany pojazdem, dla którego potwierdzenie dodatkowych warunków technicznych zawarte jest w dokumencie przewozowym

23. **W jakim kierunku ma tendencję do przemieszczania się zawartość opakowań (ciekła lub sypka) podczas przewozu?**

- A) w kierunku przeciwnym do kierunku jazdy podczas hamowania w linii prostej
- B) zawsze w kierunku zgodnym z kierunkiem jazdy
- C) w kierunku jazdy, podczas hamowania w linii prostej

24. **Klasyfikacja towarów niebezpiecznych według ADR oznacza:**

- A) podział towarów na klasy na podstawie sposobu przewozu
- B) podział towarów na klasy na podstawie zagrożenia dominującego
- C) podział pojazdów na kategorie według ich zastosowania

25. **Ile instrukcji pisemnych powinno znajdować się na pokładzie jednostki transportowej przewożącej materiały w sztukach przesyłki?**

- A) tyle, ile jest przewożonych towarów, jeśli stanowią one różne zagrożenia
- B) jedna instrukcja odpowiadająca wzorowi podanemu w ADR, jeżeli jest sporządzona w języku zrozumiałym w mowie i piśmie dla każdego członka załogi
- C) trzy, jeśli przewożone przesyłki zawierają trzy materiały ADR o różnym charakterze zagrożenia

26. **Sztuki przesyłki oraz próżne nieoczyszczone opakowania, łącznie z dużymi pojemnikami do przewozu luzem i dużymi opakowaniami, zaopatrzone w nalepki zgodne ze wzorami nr 6.1 lub 6.2:**

- A) można przewozić w bezpośredniej bliskości sztuk przesyłki zawierających żywność, artykuły spożywcze lub karmę dla zwierząt pod warunkiem, że wszystkie sztuki przesyłki są zabezpieczone przed przemieszczaniem się
- B) można przewozić w odległości 0,5 m od sztuk przesyłki zawierających żywność, artykuły spożywcze lub karmę dla zwierząt
- C) można przewozić w bezpośredniej bliskości sztuk przesyłki zawierających żywność, artykuły spożywcze lub karmę dla zwierząt, oddzielone sztukami przesyłki, które nie są zaopatrzone w nalepki zgodne z wzorami nr 6.1, 6.2, 9

27. **Do klasy 6.2 według ADR należą:**

- A) materiały żrące
- B) gazy
- C) materiały biologiczne

28. **Poniżej przedstawiona nalepka informuje o tym, że materiał:**

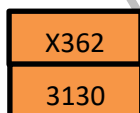


- A) jest gazem trującym lub żrącym
- B) jest gazem duszącym
- C) jest zakaźny - zagrożenie drobnoustrojami

29. **Pisemne instrukcje:**

- A) zawierają informacje dotyczące postępowania kierowcy podczas awarii
- B) powinny zawierać dane dotyczące nadawcy i odbiorcy towaru niebezpiecznego
- C) są opracowywane przez producenta lub nadawcę i przekazywane kierowcy

30. **Numery znajdujące się na tablicy ostrzegawczej wskazują:**



- A) zagrożenie wyciekami materiału trującego, zapalnego, reagującego z wodą
- B) zagrożenie wywołane materiałem ciekłym, palnym, trującym, reagującym z wodą, wydzielającym gazy palne
- C) zagrożenie wyciekami cieczy trującej, palnej

Klucz odpowiedzi Test 1

- 1- A
- 2- B
- 3- B
- 4- C
- 5- B
- 6- C
- 7- C
- 8- B
- 9- C
- 10- B
- 11- C
- 12- C
- 13- A
- 14- B
- 15- C
- 16- B
- 17- C
- 18- B
- 19- C
- 20- B
- 21- C
- 22- A
- 23- C
- 24- B
- 25- B
- 26- C
- 27- C
- 28- A
- 29- A
- 30- B